

說明：答題時，請標示題號及小節題號，並詳細列出計算過程，未依照規定，該題將以零分計算。本考科可使用無可程式化之計算機。滿分：100分。

一、設某隨機變數 X 具機率密度函數(Probability Density Function; p.d.f.)：

$$f_x(t) = \begin{cases} 1 & 0 < t < 1 \\ 0 & \text{其他} \end{cases}$$

若某新的隨機變數 Y ， $Y = X^2$

(a) 試求 Y 之平均數 $E(Y)$? (7%)

(b) 試求 Y 之變異數 $\text{Var}(Y)$? (7%)

二、設某隨機變數 X 之 p.d.f. 為

$$f_x(a) = 0.01 e^{-0.01a} \quad 0 \leq a \leq \infty$$

(a) 試求隨機變數 X 之累積分配函數(Cumulative Distribution Function) F_X ? (7%)

(b) 試求 $P\{80 \leq X \leq 100\} = ?$ (7%)

三、設某一電子光管之壽命(以小時計)為常態分配(Normal Distribution)具 $\mu = 1000$ 小時，試問若該批電子光管有 90% 之壽命超過 900 小時，則其最大容許之標準偏差值為多少小時? (8%)

四、設某一咖啡調理機每天處理咖啡的量為一隨機變數 X ，係連續一致性分配(Continuous Uniform Distribution)具 $\alpha = 7$ ， $\beta = 10$ 。試求某日該機器處理咖啡的量超過 7.4 公升，但少於 9.5 公升的機率有多少? (8%)

五、設某港口每天入港之油輪之數量為卜瓦松分配(Poisson Distribution)具平均數 10 艘。若該港口每天能處理與裝卸的油輪最多 12 艘，試問某日某些油輪無法入港進行裝卸的機率有多少? (8%)

六、某公司聲稱其油品之黏稠性 X 高於競爭品牌 Y ，今隨機抽取兩種產品各 6 罐，分別做配對比較測試，其結果為：

受測樣品	受測品編號					
	1	2	3	4	5	6
油品 X	120	130	128	170	190	210
油品 Y	115	129	129	175	186	207

假設該油品 X 與油品 Y 差異值之分佈為近似常態分配。

(a) 試求該油品 X 與油品 Y 差異值之標準偏差? (5%)

(b) 試求該油品 X 與油品 Y 差異值之 95% 可信賴區間? (7%)

(c) 試問在可信賴水準 $\alpha = 0.05$ 的檢定下，是否可推論該公司的聲稱? (8%)

七、某一實驗用以測試回火溫度 x 對 α 銅的展延性 y 之影響，其六次之測試數據為：

x ($^{\circ}\text{C}$) : 300 400 500 600 700 800

y (%) : 40 50 55 60 67 70

(a) 試求 x 與 y 之相關係數(Coefficient of Correlation)? (8%)

(b) 試求迴歸線 $y = a + bx$? (7%)

(c) 設 $x = 200$ ，試求 $y(\%) = ?$ (3%)

(背面仍有題目,請繼續作答)

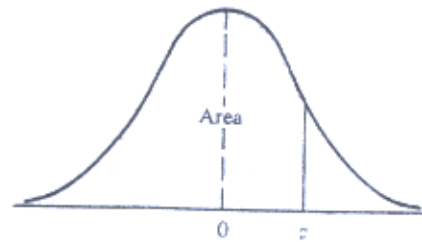


Table
Areas Under the Normal Curve

z	0.00	0.01	0.02	0.03	0.04	0.05	0.06	0.07	0.08	0.09
0.0	0.5000	0.5040	0.5080	0.5120	0.5160	0.5199	0.5239	0.5279	0.5319	0.5359
0.1	0.5398	0.5438	0.5478	0.5517	0.5557	0.5596	0.5636	0.5675	0.5714	0.5753
0.2	0.5793	0.5832	0.5871	0.5910	0.5948	0.5987	0.6026	0.6064	0.6103	0.6141
0.3	0.6179	0.6217	0.6255	0.6293	0.6331	0.6368	0.6406	0.6443	0.6480	0.6517
0.4	0.6554	0.6591	0.6628	0.6664	0.6700	0.6736	0.6772	0.6808	0.6844	0.6879
0.5	0.6915	0.6950	0.6985	0.7019	0.7054	0.7088	0.7123	0.7157	0.7190	0.7224
0.6	0.7257	0.7291	0.7324	0.7357	0.7389	0.7422	0.7454	0.7486	0.7517	0.7549
0.7	0.7580	0.7611	0.7642	0.7673	0.7704	0.7734	0.7764	0.7794	0.7823	0.7852
0.8	0.7881	0.7910	0.7939	0.7967	0.7995	0.8023	0.8051	0.8078	0.8106	0.8133
0.9	0.8159	0.8186	0.8212	0.8238	0.8264	0.8289	0.8315	0.8340	0.8365	0.8389
1.0	0.8413	0.8438	0.8461	0.8485	0.8508	0.8531	0.8554	0.8577	0.8599	0.8621
1.1	0.8643	0.8665	0.8686	0.8708	0.8729	0.8749	0.8770	0.8790	0.8810	0.8830
1.2	0.8849	0.8869	0.8888	0.8907	0.8925	0.8944	0.8962	0.8980	0.8997	0.9015
1.3	0.9032	0.9049	0.9066	0.9082	0.9099	0.9115	0.9131	0.9147	0.9162	0.9177
1.4	0.9192	0.9207	0.9222	0.9236	0.9251	0.9265	0.9278	0.9292	0.9306	0.9319
1.5	0.9332	0.9345	0.9357	0.9370	0.9382	0.9394	0.9406	0.9418	0.9429	0.9441
1.6	0.9452	0.9463	0.9474	0.9484	0.9495	0.9505	0.9515	0.9525	0.9535	0.9545
1.7	0.9554	0.9564	0.9573	0.9582	0.9591	0.9599	0.9608	0.9616	0.9625	0.9633
1.8	0.9641	0.9649	0.9656	0.9664	0.9671	0.9678	0.9686	0.9693	0.9699	0.9706
1.9	0.9713	0.9719	0.9726	0.9732	0.9738	0.9744	0.9750	0.9756	0.9761	0.9767
2.0	0.9772	0.9778	0.9783	0.9788	0.9793	0.9798	0.9803	0.9808	0.9812	0.9817
2.1	0.9821	0.9826	0.9830	0.9834	0.9838	0.9842	0.9846	0.9850	0.9854	0.9857
2.2	0.9861	0.9864	0.9868	0.9871	0.9875	0.9878	0.9881	0.9884	0.9887	0.9890
2.3	0.9893	0.9896	0.9898	0.9901	0.9904	0.9906	0.9909	0.9911	0.9913	0.9916
2.4	0.9918	0.9920	0.9922	0.9925	0.9927	0.9929	0.9931	0.9932	0.9934	0.9936
2.5	0.9938	0.9940	0.9941	0.9943	0.9945	0.9946	0.9948	0.9949	0.9951	0.9952
2.6	0.9953	0.9955	0.9956	0.9957	0.9959	0.9960	0.9961	0.9962	0.9963	0.9964
2.7	0.9965	0.9966	0.9967	0.9968	0.9969	0.9970	0.9971	0.9972	0.9973	0.9974
2.8	0.9974	0.9975	0.9976	0.9977	0.9977	0.9978	0.9979	0.9979	0.9980	0.9981
2.9	0.9981	0.9982	0.9982	0.9983	0.9984	0.9984	0.9985	0.9985	0.9986	0.9986
3.0	0.9987	0.9987	0.9987	0.9988	0.9988	0.9989	0.9989	0.9989	0.9990	0.9990
3.1	0.9990	0.9991	0.9991	0.9991	0.9992	0.9992	0.9992	0.9992	0.9993	0.9993
3.2	0.9993	0.9993	0.9994	0.9994	0.9994	0.9994	0.9994	0.9995	0.9995	0.9995
3.3	0.9995	0.9995	0.9995	0.9996	0.9996	0.9996	0.9996	0.9996	0.9996	0.9997
3.4	0.9997	0.9997	0.9997	0.9997	0.9997	0.9997	0.9997	0.9997	0.9997	0.9998

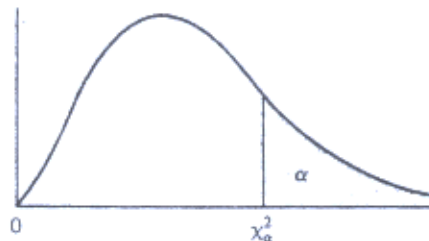
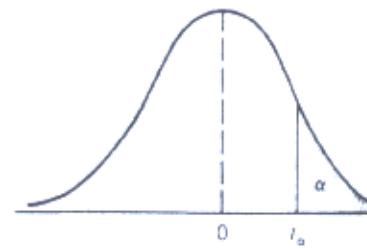


Table ... Critical Values
of the Chi-Square Distribution

v	α							
	0.995	0.99	0.975	0.95	0.05	0.025	0.01	0.005
1	0.00393	0.0157	0.00982	0.00393	3.841	5.024	6.635	7.879
2	0.0100	0.0201	0.0506	0.103	5.991	7.378	9.210	10.597
3	0.0717	0.115	0.216	0.352	7.815	9.348	11.345	12.838
4	0.207	0.297	0.484	0.711	9.488	11.143	13.277	14.860
5	0.412	0.554	0.831	1.145	11.070	12.832	15.086	16.750
6	0.676	0.872	1.237	1.635	12.592	14.449	16.812	18.548
7	0.989	1.239	1.690	2.167	14.067	16.013	18.475	20.278
8	1.344	1.646	2.180	2.733	15.507	17.535	20.090	21.955
9	1.735	2.088	2.700	3.325	16.919	19.023	21.666	23.589
10	2.156	2.558	3.247	3.940	18.307	20.483	23.209	25.188
11	2.603	3.053	3.816	4.575	19.675	21.920	24.725	26.757
12	3.074	3.571	4.404	5.226	21.026	23.337	26.217	28.300
13	3.565	4.107	5.009	5.892	22.362	24.736	27.688	29.819
14	4.075	4.660	5.629	6.571	23.685	26.119	29.141	31.319
15	4.601	5.229	6.262	7.261	24.996	27.488	30.578	32.801

(背面仍有題目,請繼續作答)

Table
Critical Values of the t Distribution



ν	α				
	0.10	0.05	0.025	0.01	0.005
1	3.078	6.314	12.706	31.821	63.657
2	1.886	2.920	4.303	6.965	9.925
3	1.638	2.353	3.182	4.541	5.841
4	1.533	2.132	2.776	3.747	4.604
5	1.476	2.015	2.571	3.365	4.032
6	1.440	1.943	2.447	3.143	3.707
7	1.415	1.895	2.365	2.998	3.499
8	1.397	1.860	2.306	2.896	3.355
9	1.383	1.833	2.262	2.821	3.250
10	1.372	1.812	2.228	2.764	3.169
11	1.363	1.796	2.201	2.718	3.106
12	1.356	1.782	2.179	2.681	3.055
13	1.350	1.771	2.160	2.650	3.012
14	1.345	1.761	2.145	2.624	2.977
15	1.341	1.753	2.131	2.602	2.947
16	1.337	1.746	2.120	2.583	2.921
17	1.333	1.740	2.110	2.567	2.898
18	1.330	1.734	2.101	2.552	2.878
19	1.328	1.729	2.093	2.539	2.861
20	1.325	1.725	2.086	2.528	2.845