

※ 考生請注意：本試題不可使用計算機。請於答案卷(卡)作答，於本試題紙上作答者，不予計分。

單選題共 50 題，每題 2 分

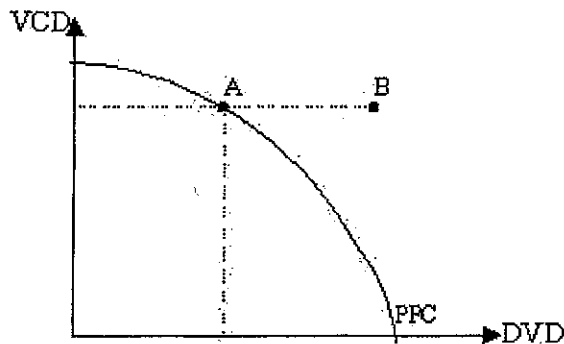
1. 李君在一塊土地上，可以分別生產稻米、水果、蔬菜。生產稻米最有利，可獲一萬公斤；其次是生產水果，可獲二萬公斤；再其次才是蔬菜，可獲五千公斤。假設他選擇了生產蔬菜，則其機會成本是：(a) 零 (b) 二萬公斤水果 (c) 一萬公斤稻米 (d) 一萬公斤稻米加二萬公斤水果。
2. 「天生我才必有用」與下列哪個觀念最相關：(a) 選擇 (b) 稀少性 (c) 絕對利益 (d) 比較利益。
3. 下列那一個因素會使一物的需求增加？(a) 互補品之價格下降 (b) 替代品之價格下降 (c) 生產技術進步 (d) 以上皆非。
4. 若計程車費率提高後，計程車司機收入增加，表示消費者對計程車服務的需求彈性：(a) 等於 1 (b) 小於 1 (c) 大於 1 (d) 等於 0。
5. 若「薄利多銷」要能賺錢，則必須該財貨的：(a) 供給彈性小 (b) 需求彈性等於 0 (c) 需求彈性小於 1 (d) 需求彈性大於 1。
6. 一隻看得見的手，是指：(a) 政府管制市場 (b) 機會成本 (c) 市場機能 (d) 比較利益法則。
7. 下邊哪一段有關需求價格的敘述是錯的？(a) 需求價格與購買量成負向關係 (b) 是消費者購買的實際支付價格 (c) 是消費者對最後一單位產品願付的最高價格 (d) 是邊際效用的貨幣值。
8. 假設 A 君購買第一個蘋果，願付 20 元，購買第二個蘋果願付 15 元，購買第三個蘋果願付 10 元。如果蘋果的市價為每個 10 元，則 A 君購買三個蘋果的消費者剩餘為：(a) 0 元 (b) 15 元 (c) 25 元 (d) 55 元。
9. 若完全競爭廠商均衡時，每天的產出能有 2,500 元的總收益，平均成本為 20 元，平均變動成本為 10 元，邊際成本為 25 元，則其每天的產量為：(a) 125 單位 (b) 100 單位 (c) 250 單位 (d) 以上均非。
10. 下列何者為不完全競爭市場的共同特性？(a) 同業廠商生產異質產品 (b) 同業廠商生產同質產品 (c) 同業廠商間之決策會互相牽制 (d) 廠商對於產品價格有某種程度的決定能力。
11. 獨占性競爭廠商之資源配置不能達到最大經濟效益，是因為它在均衡時：(a) 價格等於邊際成本 (b) 邊際收益等於邊際成本 (c) 價格高於邊際成本 (d) 價格低於邊際成本。
12. 下列何種市場中存在著供給曲線？(a) 完全競爭 (b) 獨占 (c) 寡占 (d) 以上均是。

13. 完全競爭市場的廠商訂價是由：(a) 個別生產者依據其邊際成本與邊際收入訂定 (b) 所有生產者與消費者共同決定 (c) 個別生產者與個別消費者議價決定 (d) 因買賣雙方人數均非常多，故由政府決定。
14. 甲公司今年製造銷售之電腦共計 1,000 萬元。製造過程中使用原料 (中間投入) 300 萬元，繳交營業稅 50 萬元，付給員工薪水 500 萬元。請問甲公司今年所創造之附加價值為：(a) 1000 萬元 (b) 700 萬元 (c) 650 萬元 (d) 150 萬元。
15. 根據主計處的統計，以 1991 年為基年，1994 年的 CPI 為 111.9，1995 年為 116.1。請問 1994-1995 年之物價膨脹率為：(a) 116.1% (b) 111.9% (c) 100% (d) 3.8%。
16. 下列那一項不包含在我國的 M1B 定義中？(a) 鑄幣 (b) 活期存款 (c) 支票存款 (d) 外匯存款。
17. 若中央銀行想增加貨幣供給，可採行：(a) 提高重貼現率 (b) 提高存款準備率 (c) 發行定期存單 (d) 撥還郵匯局轉存款。
18. 勞動力參與率之定義為：(a) 勞動力除以總人口 (b) 勞動力除以失業人口 (c) 勞動力除以 15 足歲以上民間非監管人口 (d) 失業人口除以勞動力。
19. 貨幣中立性是指：(a) 貨幣供給變動不影響實質變數，也不影響名目變數 (b) 貨幣供給變動對實質變數之影響大於名目變數 (c) 貨幣供給變動會同時影響實質變數與名目變數 (d) 以上皆非。
20. 台塑公司今年內所購置的下列資產，哪一項不屬國民所得統計中的投資？(a) 機器 (b) 土地 (c) 貨車 (d) 新的辦公大樓。
21. 在開放經濟中，當本國所得增加 1 單位時，對本國產品購買之增加量等於：
(a) 邊際消費傾向 (b) 邊際進口傾向 (c) 邊際消費傾向減去邊際進口傾向 (d) 邊際消費傾向加上邊際進口傾向。
22. 下列哪一項政策最能提高國民所得？(a) 政府支出增加 10 億元 (b) 稅收減少 10 億元 (c) 政府支出與稅收同額增加 10 億元 (d) 政府支出與稅收同額減少 10 億元。
23. 開放大陸客來台觀光，會使台灣國際收支表上的那一個帳戶的收入增加？(a) 經常帳 (b) 資本帳 (c) 金融帳。
24. 「國外資金流入」發生於下列何種情況？(a) 本國利率低於國外利率 (b) 本國貨幣預期升值 (c) 本國貨幣預期貶值 (d) 本國政治不穩定。
25. 若將匯率固定在一個偏高的水準，將導致：(a) 國際收支順差 (b) 所得與就業提高 (c) 國內物價上升 (d) 以上皆是。

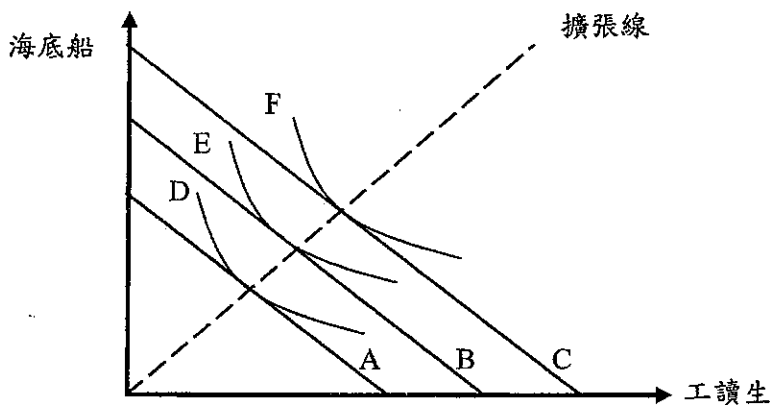
26. 總合需求線所考慮的是：(a) 商品市場之均衡 (b) 貨幣市場之均衡 (c) 商品市場與貨幣市場之均衡 (d) 商品、貨幣與勞動三市場之均衡。
27. 物價下跌後，下列那一項不是導致總合需求線成負斜率的原因？(a) 利率下降，投資增加 (b) 出口增加，進口減少 (c) 實質財富增加，民間消費提高 (d) 實質工資率上升，勞動者之消費增加。
28. 下列那一項與凱因斯學派總合供給線之說法不一致？(a) 總合供給線呈正斜率 (b) 充分就業是常態 (c) 貨幣工資率易升難降 (d) 勞動達充分就業後，總合供給線成垂直線。
29. 若總合需求線與總合供給線相交於總合供給線呈垂直的階段，下列那一狀況可使均衡產出提高？(a) 政府增加消費支出 (b) 政府減免個人所得稅負 (c) 中央銀行增加貨幣供給 (d) 生產技術進步。
30. 下列那一項不是促使中國大陸推動人民幣國際化之因素？(a) 美元價值走強 (b) 可提高中國的國際地位 (c) 可減少保有外匯準備 (d) 各國期待增加國際準備貨幣之選項。
31. 下列哪一句話是不正確的？
(a) 平均每人所得高的國家，每人所得之成長率也較高 (b) 1960-80 年代，台灣的經濟成長率高於世界平均 (c) 平均每人所得上升時，勞動工時有下降的趨勢 (d) 若其他條件不變，勞動生產力上升時，平均每人所得也上升。
32. 下列哪一項陳述是正確的？
(a) 人均 GDP 大約會等於勞動生產力 (b) 人均 GDP 成長率大約會等於勞動生產力成長率 (c) 人均 GDP 大約會大於勞動生產力 (d) 人均 GDP 上升時，勞動生產力會下降。
33. 下表為台積電晶圓廠的產量、長期總成本，請問下列何者有誤？
(a) 當產量介於(1,4)間時，晶圓的生產具有規模經濟 (b) 當產量介於(4,6)間時，晶圓的生產具有規模報酬不變 (c) 當產量介於(7,9)間時，晶圓的生產具有規模不經濟 (d) 當產量介於(1,7)間時，晶圓的生產具有規模經濟。

| 產量 | 1 | 2 | 3 | 4 | 5 | 6 | 7 | 8 | 9 |
|-------|----|----|----|----|----|----|----|----|----|
| 長期總成本 | 45 | 30 | 20 | 15 | 15 | 15 | 20 | 30 | 45 |

34. 假設高科島生產 VCD 與 DVD 兩種產品，其生產可能線 (PPC) 為下圖中所示。請問下列敘述何者為誤？ (a) 若高科島的勞工大量移民到矽谷，生產可能線會向內移 (b) A 點代表高科島能以最有效率的方式生產 (c) 若高科島在生產 VCD 上有技術革新，B 點是可能達成的 (d) 當 VCD 的市場價格變差時，生產可能線會向內移。



35. 下圖為六福村的要素組合圖，請問下列敘述何者為誤？ (a) 當六福村試圖由 D 的產量擴大產能時，其等成本線可能會由 A 線移至 B 線或 C 線 (b) 當海盜船的利息成本下降，會使六福村的等成本線移動 (c) 六福村的長期平均成本線為水平線 (d) 擴張線上的各點皆以最低成本來生產。

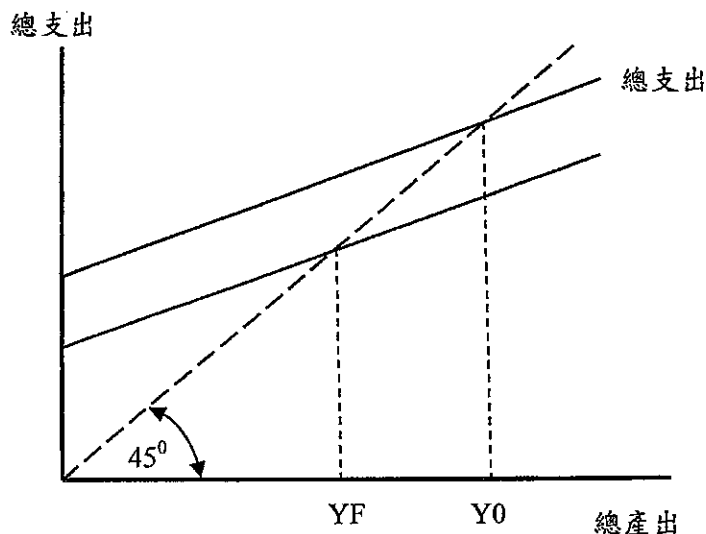


36. 至誠購買零件(K)並僱用馬屁精(L)生產測謊機，假設測謊機一台 200 元，每組零件 10 元，每位馬屁精薪水 5 元。若要生產 80 台測謊機，可能有 A - F 六種方式，其所需的零件與馬屁精數量與對應的邊際產量如下表所示，請問至誠為了以最小成本生產 70 台測謊機，至誠會選擇何種方式生產？ (a) C (b) A (c) D (d) B

| 方式 | A | B | C | D | E | F |
|---------|---|----|----|----|----|----|
| 零件數 | 1 | 2 | 3 | 4 | 5 | 6 |
| 零件邊際產量 | 5 | 12 | 15 | 18 | 16 | 12 |
| 馬屁精數 | 6 | 5 | 4 | 3 | 2 | 1 |
| 馬屁精邊際產量 | 3 | 6 | 8 | 9 | 7 | 4 |

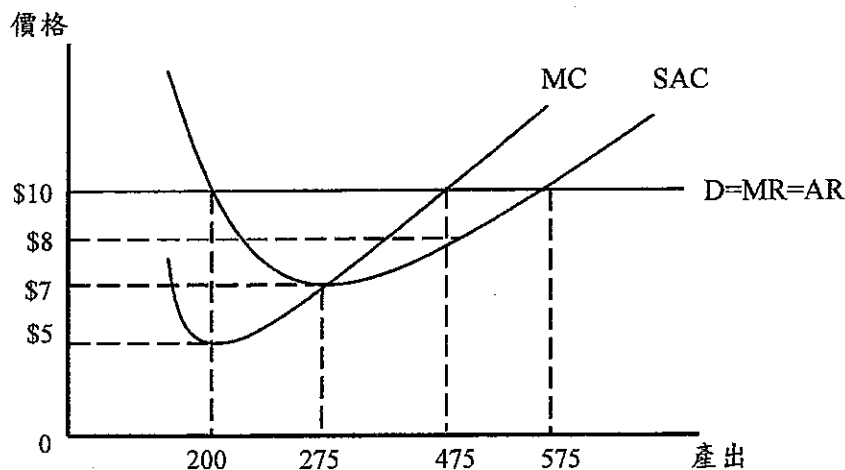
37. 在伯朗咖啡店現有的店面及設備之下，當伯朗先生僱用 5 個員工時，發現咖啡的總產量會隨員工人數增加而增加，因此又再錄用 3 個員工，但此時咖啡的總產量卻比原來還低。下列敘述何者有誤？
- (a) 新增這 3 個員工後的平均產量並無改變 (b) 新增的 3 個員工帶來的邊際產量是負的 (c) 總產量的下降有可能是因配合的資本設備不足所致 (d) 新增這 3 個員工後的平均產量低於原有員工的平均產量

38. 參考下圖，若 YF 表充分就業時的產出水準，而目前經濟體系的產出水準為 Y0，則下列敘述何者正確：(a) 此時實際失業率會等於自然失業率 (b) 存貨會增加，產出會減少 (c) 存貨會減少，產出會增加 (d) 經濟體系仍處於均衡狀態，但是有景氣過熱的現象。



39. 在開放體系下，假設邊際消費傾向為 0.8，邊際稅率為 0.25，邊際進口傾向為 0.1，充分就業產出為 5000 萬，而目前經濟體系的均衡產出為 4000 萬，則政府定額稅該採何種方式才會使經濟體系達到充分就業產出：(a) 減稅 1600 萬 (b) 減稅 625 萬 (c) 增稅 625 萬 (d) 增稅 1600 萬
40. 下列事件何者會造成自發性投資的變動：(a) 亞洲金融風暴重創股市，導致股價下跌 (b) 預期網際網路蓬勃發展使得高科技公司投入電子商務的研發 (c) 新台幣對美元升值 (d) 春節將近，預期將有豐厚的年終獎金。
41. 當價格上升時，下列何者敘述正確？
- (a) 名目貨幣需求線右移，總合需求線右移 (b) 名目貨幣需求線右移，總合需求線左移 (c) 名目貨幣需求線右移，總合需求線沿線向上移動 (d) 名目貨幣需求線左移，總合需求線左移。
42. 貨幣供給透過何種管道影響總合需求？(a) 由利率變化改變投資及消費需求，進而影響總合需求 (b) 由所得變化改變消費及出口，進而影響總合需求 (c) 由利率變化改變儲蓄及總合供給，進而影響總合需求 (d) 由利率變化改變出口及總合供給，進而影響總合需求。

43. 若中央銀行增加貨幣供給,但是同時政府減少支出,則 (a) 利率下降,所得的變化無法確定 (b) 利率下降,所得下降 (c) 所得下降,利率的變化無法確定 (d) 利率下降,所得增加。
44. 設資本邊際報酬為 $MR(K) = 110/K$, 在名目利率為 10%, 通貨膨脹率為 0 的情況下, 請問最適資本量為多少? (a) 110 (b) 1000 (c) 100 (d) 10
45. 古典學派與凱因斯學派主要差異在於 (a) 政府政策的可信度 (b) 國際衝擊對國內經濟的影響 (c) 總合供給線的形狀 (d) 總合需求對利率變化的敏感度
46. 下列有關政府財政融通手段的敘述, 何者有誤? (a) 根據李嘉圖等值論, 賦稅融通與公債融通的效果相同 (b) 貨幣融通容易發生通貨膨脹 (c) 賦稅融通會產生排擠效果 (d) 根據凱因斯學派的理論, 公債的增加不會影響消費的選擇。
47. 以下對於貨幣工資僵固假說的敘述, 何者正確? (a) 若實質工資低於勞動市場均衡, 產生正斜率的總合供給線 (b) 若實質工資低於勞動市場均衡, 則產生失業 (c) 若實質工資高於勞動市場均衡, 則貨幣工資維持不變 (d) 若實質工資高於勞動市場均衡, 會產生垂直的總合供給線。
48. 下列各學派對於短期景氣波動的說明, 何者正確? (a) 新興古典學派認為可預料的貨幣供給變動會影響產出 (b) 凱因斯學派認為在資訊不完全下, 景氣才有短期波動 (c) 古典學派認為無論長短期, 所得均維持充分就業水準 (d) 理性預期學派認為勞動市場不健全, 引起失業及景氣波動。
49. 如圖顯示完全競爭廠商「水噹噹服飾店」的成本線, 若市場價格不為圖中的 \$10, 而為 $P = \$7$, 有關此家廠商短期均衡的敘述何者正確? (a) 總利潤為 \$1925 (b) 會有損失但會繼續營業 (c) 面臨關門大吉的命運 (d) 經濟利潤為零



50. 假設「干乃迪養豬場」為一完全競爭廠商，其短期固定成本 (FC)、總成本 (TC) 如下表所示，則下列有關其短期均衡的敘述何者正確？

- (a) 2. 若市場價格為\$30，「干乃迪養豬場」無利可圖，但會繼續經營養豬場 (b) 3. 若市場價格為\$160，「干乃迪養豬場」有利可圖 (c) 4. 若市場價格為\$200，「干乃迪養豬場」無利可圖，會退出市場 (d) 1. 若市場價格為\$50，「干乃迪養豬場」有利可圖

| 單位(頭) | 固定成本 | 總成本 |
|-------|-------|-------|
| 0 | \$100 | \$100 |
| 1 | \$100 | \$140 |
| 2 | \$100 | \$170 |
| 3 | \$100 | \$220 |
| 4 | \$100 | \$380 |
| 5 | \$100 | \$580 |