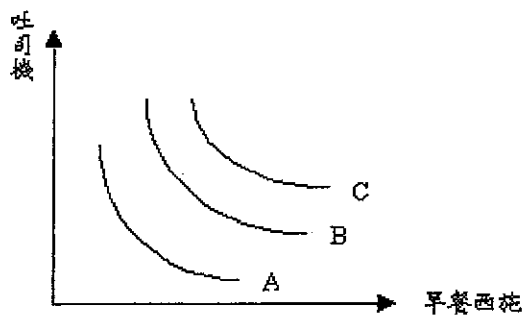


※ 考生請注意：本試題不可使用計算機。請於答案卷(卡)作答，於本試題紙上作答者，不予計分。

單選題共 50 題，每題 2 分

1. 供給曲線是架構在何種假設下 A) 僅有價格會影響供給量 B) 商品為正常品 C) 供給法則成立 D) 除價格外其他影響供給量之因素固定不變
2. 柳丁與橘子為替代品，若因蟲害而使柳丁供給減少，則對橘子市場有何影響 A) 價格上升，交易量減少 B) 價格下降，交易量增加 C) 價格下降，交易量減少 D) 價格上升，交易量增加
3. 需求法則 (law of demand) 隱含下列何者 A) 某物品價格上升，則該物品需求量下降 B) 所得上升，則該物品需求量上升 C) 某物品價格上升，則該物品需求量上升 D) 某物品需求量上升，則該物品價格下降
4. 政府因財政赤字嚴重而欲提高所得稅與進口稅，此一政策對進口車市場有何影響 A) 價格上升，數量增減無法確定 B) 價格上升，數量減少 C) 價格下降，數量上升 D) 價格升降無法確定，數量減少
5. 921 大地震後礦泉水價格飛漲，政府為防止不肖業者乘機哄抬物價而進行價格管制，此一措施可能造成 A) 超額供給 B) 需求減少 C) 超額需求 D) 供給減少
6. 經濟學家特別重視均衡時的價量，其原因為何 A) 均衡以外之價量不可能出現 B) 均衡以外之價量違反供需法則 C) 均衡之價量難以達到 D) 均衡以外之價量無法持續存在
7. 台灣有多家航空公司競爭北高航線，某家航空公司在生存不易下仍決定降低票價，其根據之理由可能為 A) 供給彈性很大 B) 供給彈性很小 C) 需求彈性很小 D) 需求彈性很大
8. 蔬菜通常需要種植一段時間才能在市場上販售，因此短期間 A) 蔬菜的供給彈性固定 B) 蔬菜的供給彈性須視替代品多寡而定 C) 蔬菜的供給彈性很大 D) 蔬菜的供給彈性很小
9. 近年來空氣污染日益嚴重，政府因而鼓勵民眾騎乘電動機車。然而電動機車之供給與需求函數為  $Q = 10P - 75$  與  $Q = 70 - 10P$  (其中價量之單位分別為萬元與萬輛)。經專家評估最佳的電動機車數目為 10 萬輛，因此政府應補貼供給者每輛多少元方能達到此一目標 A) 2 萬元 B) 1.5 萬元 C) 3 萬元 D) 2.5 萬元

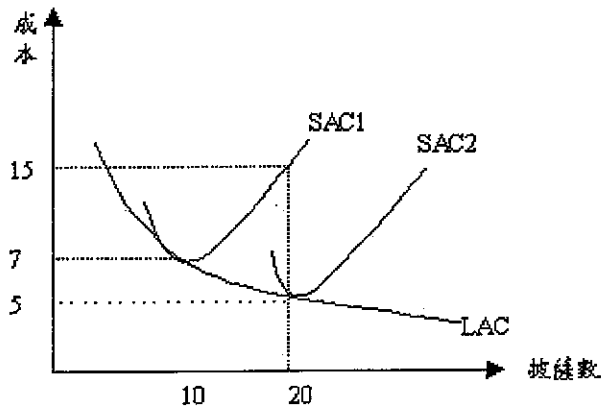
10. 近年來常聽到計程車司機要求調高計程車費，但亦有些司機反對，其反對之理由可能為 A) 計程車的需求彈性很小 B) 計程車的替代品很少 C) 計程車為服務性質 D) 計程車的需求彈性很大
11. 小明事業有成，其工資最近調漲但其卻減少工作時間而增加休閒旅遊，由此一現象可知下列何者有誤 A) 休閒旅遊需求不符合需求法則 B) 所得效果大於替代效果 C) 小明違反效用極大化假設 D) 勞動供給不符合供給法則
12. 關於消費者之最適選擇的敘述下列何者有誤 A) 必為無異曲線與預算限制線相切點 B) 效用大於最適選擇的商品組合消費者必定無法負擔 C) 有內解下主觀價格等於客觀價格 D) 為預算限制下效用極大之商品組合
13. 阿華對蘋果的效用隨著消費量的增加而減少增加幅度，此一現象表示 A) 邊際效用小於零 B) 邊際替代率遞增 C) 邊際效用遞減 D) 邊際替代率遞減
14. 下列對於預算限制式之敘述何者有誤 A) 預算限制可表現出商品之客觀交換比 B) 符合預算限制的商品組合表示消費者能負擔得起 C) 預算限制表示消費者在客觀環境下的限制 D) 預算限制表示總支出等於總收入
15. 美加美早餐店以賣烤吐司而家喻戶曉，下圖為美加美的等產量曲線，下列敘述何者為誤 A) 當吐司機使用量增加，吐司機替代早餐西施的能力會愈來愈弱 B) 在 A 線上任意一點的切線斜率，即邊際技術替代率 C) 當美加美的生意愈來愈好時，A 線會往東北移至 B 線或 C 線 D) 在 A 線上的各點，生產成本是相同的



16. 登輝兄每月的收入為 25 萬元，目前正考慮是否要退休。而退休後可能的生涯方案有四種，其每年的收入如下表所示。下列敘述何者有誤？ A) 登輝兄選擇 C、D 方案的機會成本相同 B) 登輝兄繼續工作的機會成本為 36 萬元 C) 登輝兄應選擇退休 D) 登輝兄選擇 B 方案的機會成本為 30 萬元

方案	A	B	C	D
收入	36 萬	30 萬	24 萬	28 萬

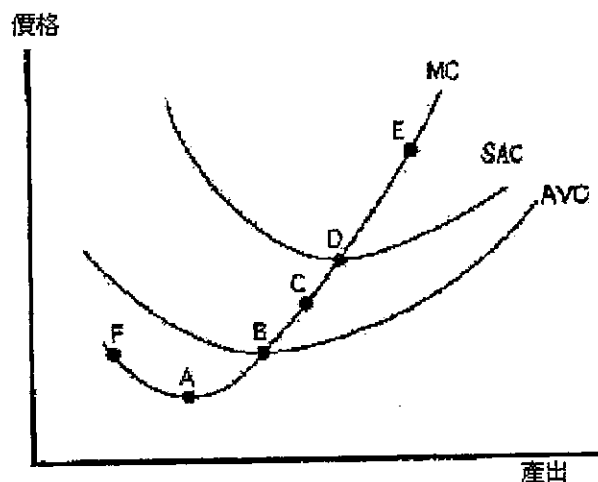
17. 麥先生在外租房子開漢堡店，請問以下敘述何者正確？ A) 麥先生請女兒幫忙，但不需支付薪水，代表漢堡店的利潤會增加 B) 當漢堡店的會計利潤為負，其經濟利潤必為負 C) 麥先生若用自己的房子開店，可節省經濟成本 D) 漢堡店的總收入減掉會計成本等於漢堡店的經濟利潤
18. 下圖為達美樂披薩店的長期(LAC)與短期成本(SAC)圖，達美樂生產 10 個披薩，其平均成本為 7 元 A) 達美樂的生產具有規模不經濟 B) SAC2 線所代表的資本規模比 SAC1 大 C) 達美樂的生產力低落，導致長期成本線下降 D) 長期而言，達美樂生產的披薩由 10 個增加到 20 個，總成本上升 10 元



19. 中華電信服務網的生產函數為  $Q = 2L + 3K$ ，請問下列敘述何者錯誤 A) 邊際技術替代率為固定的數值 B)  $L$  與  $K$  在生產上是完全互補的關係 C) 勞動邊際產量為 2 D) 資本邊際產量為 3
20. 遠傳架設 10 座基地台，並請辣妹推銷行動電話，請問以下敘述何者為誤？ A) 短期平均固定成本會隨銷售量的增加而下降 B) 長期而言遠傳的固定成本為零 C) 短期總固定成本不會因行動電話的銷售量的變動而改變 D) 若辣妹的薪水增加，會使遠傳的平均固定成本增加
21. 在伯朗咖啡店現有的店面及設備之下，當伯朗先生僱用 5 個員工時，發現咖啡的總產量會隨員工人數增加而增加，因此又再錄用 3 個員工，但此時咖啡的總產量卻比原來還低。下列敘述何者有誤？ A) 新增這 3 個員工後的平均產量並無改變 B) 新增的 3 個員工帶來的邊際產量是負的 C) 總產量的下降有可能是因配合的資本設備不足所致 D) 新增這 3 個員工後的平均產量低於原

有員工的平均產量

22. 阿亮皮鞋為一完全競爭廠商，每雙鞋子賣 40 元。若在目前的產量下，多賣一雙鞋子的成本為 50 元，則此一廠商應 A) 關門大吉 B) 減少生產以提高利潤 C) 增加價格以提高利潤 D) 增加產出以提高利潤
23. 假設小扁開了一家「扁帽工廠」，且其為完全競爭廠商，則下列敘述何者正確？ A) 市場需求曲線是水平線 B) 小扁「扁帽工廠」的邊際收益線為負斜率的 C) 市場需求曲線為負斜率的 D) 小扁「扁帽工廠」的邊際收益線在平均收益線的下方
24. 普吉島上賣椰子汁的攤販難以數計，要讓這些攤販構成完全競爭市場，在下列各項條件中，那一項不是必要條件？ A) 各家攤販間會削價競爭以吸引顧客 B) 顧客不在乎攤販老闆的美醜 C) 每一家攤販知道其他攤販的定價 D) 顧客無法分辨每家攤販的椰子汁有何不同
25. 假設台灣的豬肉市場為完全競爭產業，其產業之長期供給曲線為正斜率。今因口蹄疫導致需求下降，試問下列有關豬肉市場長期均衡調整的敘述何者正確 A) 總產量不變，價格增加，廠商數減少 B) 總產量不變，價格不變，廠商數減少 C) 總產量下降，價格下降，廠商數減少 D) 總產量下降，價格不變，廠商數減少
26. 如圖顯示完全競爭廠商的成本曲線，請問廠商的短期供給線為 A) D 點之上的 MC 線 B) B 點之上的 MC 線 C) 整條 MC 線 D) A 點之上的 MC 線



27. 獨佔廠商的供給曲線是位於 A) 沒有獨佔供給曲線 B) 高於平均變動成本線最低點的邊際成本線 C) 邊際收益線上方 D) 邊際收益線下方

28. 下列敘述何者有誤？ A) 反獨佔的政策目的為限制獨佔力的濫用 B) 制訂獨佔法是為了阻止不公平競爭行為的發生 C) 我國的反獨佔法為消費者保護法 D) 常用來規範獨佔的工具為「管制」和「反獨佔」法
29. 在某小島上，有一家生產「天一神水」的公司。在下列這些條件中，何者不是此公司形成獨佔事業的必要條件？ A) 「天一神水」在市場上無近似替代品 B) 「天一神水」在生產上具有大規模經濟 C) 此公司有影響市場價格 D) 在市場中存在進入障礙
30. 撇開政府管制等因素，在下列這些公營企業(某些企業已民營化)所生產的產品中，那一項較可能因大規模經濟形成獨佔？ A) 煙酒公賣局生產的煙酒 B) 台糖公司生產的蔗糖 C) 台肥公司生產的肥料 D) 台灣電力公司生產的電力
31. 王老五在夜市擺攤子賣小吃，月入數百萬。原本他都沒有誠實納稅，後來他被稅捐機關盯上之後，必須誠實納稅，自此之後他一個禮拜只工作 5 天而非 7 天，最可能的解釋為？ A) 王老五賭氣不想工作。 B) 所得效果使得王老五減少工作。 C) 休閒的機會成本增加了，使得王老五不工作。 D) 替代效果使得王老五減少工作。
32. 假設某銀行所面對的是一個已經處於均衡狀態的完全競爭的勞動市場，當該銀行將該公司所有的電腦都由 486 升級至 Pentium III 後(單位員工邊際產量上升)，下列何者最可能發生？ A) 均衡的薪資水準下降。 B) 該銀行開始裁員。 C) 該銀行開始雇用更多的員工。 D) 均衡的薪資水準上升。
33. 假設位於新竹的電子公司所面對的是一個已經處於均衡狀態的勞動市場，下列何者最可能造成工資下降同時員工的就業人數卻增加？ A) 電子業面臨景氣大好。 B) 員工們發現生物科技前景更好而不願到電子公司上班。 C) 外國電子同業削價競爭。 D) 政府宣佈開放外籍勞工。
34. 下列何者最不可能是造成台灣製造業在 90 年代比 60 年代更難找到年輕的工人的原因？ A) 許多人希望接受較長、較好的教育，因而沒有時間也不願從事勞力的工作。 B) 有更多工作環境更好的工作等著年輕人去應徵。 C) 因為貧富差距增大，工人會比較被看不起。 D) 許多人有不錯的家世，父母留下較多的財產，使得他們不用工作。
35. 以下論述，何者有誤？ A) 政府訂定過高的最低工資將造成勞動供過於求的現象。 B) 當工資率上升時，由於休閒的機會成本上升故工作天數一定會增加。 C) 現實世界的要素市場多少存有移動障礙，因此各地區的要素價格仍有所不同。 D) 機器設備等資本財的使用成本包括利息及折舊兩部份。

36. 關於經濟學上「失業」的描述下列何者不正確？ A) 剛畢業還在找工作中的人也算是失業。 B) 不願意屈就較低職位，而在等待好工作的林博士也算是失業。 C) 老王任職的公司被奸商掏空而倒閉，老王也算是失業。 D) 小李很懶惰不想去找工作也算是失業。
37. 關於「所得不均」的衡量方式下列何者敘述是錯的？ A) 我們可以用收入最高 20% 的家庭的平均所得和收入最低 20% 的家庭的平均所得的比例來作為一種衡量的指標。 B) 我們可以計算出一種基尼係數來衡量所得不均的程度。 C) 基尼係數越接近 1 代表所得分配越平均。 D) 當羅倫茲曲線越接近 45 度的直線時表示收入完全平均。
38. 台灣各地的生產要素價格不盡相同，關於這個現象以下那一個解釋不合理？ A) 土地的價格在各縣市不一樣是因為在該土地上能從事的經濟活動差異很大，而且土地不會移動。 B) 由於資金可以在國內自由移動，因此利率在各縣市大略相同。 C) 勞動的薪資不一樣是因為人到家鄉之外的地點工作總會有一些成本，因此工作人口移動無法使得各地的薪資完全一致。 D) 新竹科學園區的薪資比大多數縣市好是因為新竹市的在地人特別少。
39. 下列哪一個事件具有物價膨脹的意涵？ A) 高速公路通行費已有五年沒有調整，交通部研議調高 5% B) 油價由去年初每桶 15 美元節節高升，預計今年年中可達每桶 32 美元 C) 受到外資持續加碼台股的影响，股價指數已突破萬點 D) 冬季牛乳價格比夏季便宜
40. 下列何者為總體經濟所關切的“總量”觀念？ A) 我國去年的出口總金額 B) 新加坡去年勞工平均工資 C) 仁寶電腦去年營收總額 D) 美國上一季躉售物價指數
41. 下列何者不是衡量 GDP 所產生的問題？ A) 未包含所得稅 B) 排除地下經濟 C) 忽略所得分配 D) 未考慮環境品質
42. 下列何者包含於 GDP 中？ A) 居住於台北的日本人購買新的台製電扇 B) 台灣畫家在日本賣出畫作 C) 政府對地震受難災民的補助 D) 購買台積電股票
43. 以下對於物價指數的敘述何者有誤？ A) 物價指數無法反映商品品質的變化 B) GNP 平減指數的權數是個別商品當期的支出份額 C) GNP 平減指數通常高估物價上漲時消費者的痛苦 D) 生產者物價指數以批發價格計算
44. 下列何原因造成 GDP 高估經濟福祉？ A) 環境品質改善 B) 地下經濟規模擴大 C) 商品勞務品質的提升 D) 大地震造成湖光山色的破壞
45. 經濟學家所謂的充分就業是指： A) 沒有摩擦性失業 B) 沒有結構性失業 C) 實際失業率等於自然失業率 D) 失業率等於零

46. 網路上人力資源銀行的興起會減少下列何種失業： A) 結構性失業 B) 循環性失業 C) 季節性失業 D) 摩擦性失業
47. 假設一國 15 歲以上人口有 150 萬，其勞動力為 110 萬，總就業人口為 99 萬，則其勞動參與率為： A) 10% B) 90% C) 66% D) 71.4%
48. 經濟學家認為對於高利貸行為作限制會造成市場的不效率，原因是： A) 會產生菜單成本 B) 會產生所得重分配效果 C) 會產生鞋皮成本 D) 在高物價膨脹時期會對名目利率產生抑制
49. 我國實施「兩稅合一」政策，主要是針對哪兩種稅造成的重複課稅現象？ A) 綜合所得稅、營利事業所得稅 B) 所得稅、營業稅 C) 房屋稅、地價稅 D) 證券交易稅、證券交易所稅
50. 下列有關獨佔廠商與完全競爭廠商的敘述，那一項是正確的？ A) 兩者的短期利潤均可能為正或負 B) 兩者在長期時均會在長期平均成本線的最低點生產 C) 兩者的長期利潤均為零 D) 兩者的短期供給線均為平均變動成本最低點以上的邊際成本線